

IME I PREZIME	BODOVI	OCJENA
---------------	--------	--------

# Nizinski dio RH

- Što su nizine? \_\_\_\_\_
- Spoji imena nizina s rijekama po kojima su one dobile ime.

Međimurje	Kupa
Posavina	Drava
Poiloglje	Mura
Podravina	Ilova
Pokuplje	Sava
- Močvarne nizine zaštićene su kao parkovi prirode. DA NE
- Najveći dio obrađenog zemljišta u nizinskim krajevima čine \_\_\_\_\_.
- Šume hrasta lužnjaka ostaci su nekadašnjih:
  - slavonskih šuma
  - posavskih šuma
- U nizinskim krajevima uzgaja se vinova loza i krumpir. DA NE
- Uljarice su biljke od kojih dobivamo ulje.

To su: (zaokruži točne odgovore)

  - suncokret
  - jabuke
  - krumpir
  - uljana repica
  - soja
- Najveći grad nizinskih krajeva je \_\_\_\_\_.
- Kuće u nizinskim područjima okupljale su se uzduž cesta pa su mnoga sela duga i više kilometara. DA NE
- Koje su gradove u nizinskom kraju osnovali Rimljani? \_\_\_\_\_

11. Koji je najpoznatiji predmet iz Vučedola (arheološkog nalazišta)?

\_\_\_\_\_.

12. Odjeća koju su nekada nosili na selu bila je bogata vezom i dukatima zove se

\_\_\_\_\_.

13. Oboji na karti nizinsko područje bojom kojom se označavaju nizine na kartama.



14. Tri najveće rijeke nizinskog dijela RH su : \_\_\_\_\_ ,

\_\_\_\_\_ i \_\_\_\_\_ .

15. Objasni zašto se nizinski krajevi nazivaju žitnicom domovine?

---


---

---

16. U nizinskim krajevima živjeli su i radili znameniti ljudi:

\_\_\_\_\_, \_\_\_\_\_ i  
\_\_\_\_\_.

17. Napiši što si novo naučio/la o nizinskom dijelu RH i što bi volio/voljela još više saznati... (zanimaju te).



# Nizinski dio RH provjera

GRUPA A

IME I PREZIME: \_\_\_\_\_ BODOVI I OCJENA: \_\_\_\_\_

## 1. Nadopuni ove rečenice. (koristi kao pomoć zemljopisnu kartu)

- a) Velike hrvatske nizine prostiru se uz \_\_\_\_\_ .
- b) Na oranicama nizinske Hrvatske najviše se uzgajaju \_\_\_\_\_ .
- c) Neka istočnoslavonska sela imaju pravilan izgled naselja poput \_\_\_\_\_ .
- d) Lonjsko polje i Kopački rit su \_\_\_\_\_ .
- e) Šume hrasta lužnjaka danas su tek ostaci nekadašnjih šuma poznatih kao \_\_\_\_\_  
\_\_\_\_\_ .
- f) Rijeka Sava je za suvremeni riječni promet plovna nizvodno od \_\_\_\_\_ .
- g) Najveća su nalazišta zemnoga plina u \_\_\_\_\_ .
- h) U srednjoj Posavini najveće je naselje \_\_\_\_\_ .
- i) Velika vojna utvrda u Slavanskom Brodu nalazi se pokraj rijeke \_\_\_\_\_ .

## 2. Zaokruži ako je tvrdnja točna DA, ako je tvrdnja netočna NE.

- a) Dijelovi Panonske nizine u Hrvatskoj protežu se uz rijeke Savu, Dravu i Dunav.  
DA NE
- b) Krmno bilje se koristi kao hrana za stoku. DA NE
- c) Rimski naziv za Osijek bio je Mursa. DA NE
- d) Nizinski dijelovi Hrvatske pripadaju srednjoeuropskom kulturnom krugu.  
DA NE
- e) Više od 2/3 panonskoga prostora Hrvatske nalazi se između 80 i 200 m  
nadmorske visine. DA NE
- f) Voćari se bave uzgojem ribe u ribnjacima. DA NE
- g) U nizinskim krajevima gradovi i sela slabo su povezani cestama. DA NE
- h) Željeznička pruga povezuje Bjelovar i Viroviticu. DA NE

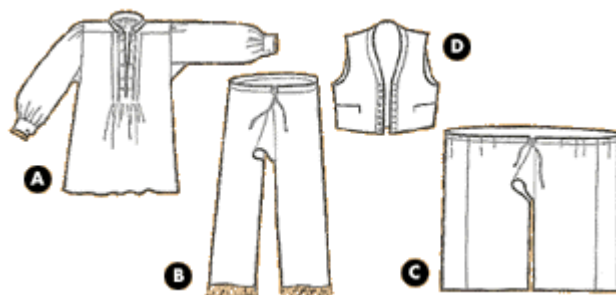
**3. Od ponuđenih odgovora zaokruži slovo ispred onog koji je točan.**

1. Osnovne vrste ravnica (nizina) su:

- a) vlažne nizine uz rijeke izložene poplavama
- b) suhe zaravni na povišenim područjima
- c) viši ravničarski prostori podalje od rijeka.

2. Najviše Mađara u nizinskoj Hrvatskoj živi u:

- a) Podravini
- b) Posavini
- c) Baranji.



**Osnovni dijelovi muške nošnje iz panonskog područja:**

a - košulja, rubača, rubina; b, c - gaće; d - prsluk, lajbek



- d) Vučedolska golubica (jarebica), simbol vukovarskog kraja predmet je iz razdoblja prapovijesti. DA NE
- e) U nizinskim su krajevima nesnosne ljetne vrućine i vlada suša. DA NE
- f) Mnogi krajevi uz rijeke bili su u prošlosti izloženi poplavama. DA NE
- g) Kuće su okupljene uzduž cesta pa su mnoga sela duga i više kilometara. DA NE
- h) Najviše tragova iz starog vijeka ostavili su Rimljani. DA NE


**3. Od ponuđenih odgovora zaokruži slovo ispred onog koji je točan.**

1. Za okolicu Bjelovara i srednju Podravinu tipičan je uzgoj:

- a) slatkovodnih riba
- b) goveda
- c) peradi.

2. Katedrale se nalaze u gradovima:

- a) Zagrebu i Osijeku
- b) Zagrebu i Đakovu
- c) Osijeku i Slavonskom Brodu



**Laneni dijelovi ženske nošnje iz Slavonije i Baranje:**

- a1 - košulja, rubina, odnjica, prednji dio; a2 stražnji dio; b - veliki oplećak; c - mali oplećak; d - rubina, skuti, krila